

Швецова Инга

6 класс
школы ЧСОИ

Управление образования Городовиковского районного муниципального образования
Республики Калмыкия
Задания школьного этапа Всероссийской олимпиады школьников
по труду (технологии) (девушки) для 5-6 классов
2024-2025 учебный год


Теоретическое задание

Время выполнения заданий теоретического тура – 60 минут

Максимальная оценка за работу – 20 баллов.

Общая часть

1. (1 балл) На станции «Новокузнецкая» Московского метрополитена можно увидеть семь смальтовых мозаичных панно. Одно из них расположено в вестибюле, а остальные находятся в центральной части зала. Панно были выполнены художником-мозаичистом Владимиром Александровичем Фроловым по эскизам Александра Александровича Дейнеки. Рассмотрите фотографию одного из мозаичных панно.






Определите, как называется это панно.

- а) Шахтёры
- б) Авиаторы
- в) Лыжники
- г) Садоводы
- д) Сталевары
- е) Строители
- ж) Машиностроители

Справочная информация

Смá льта – цветное непрозрачное стекло, изготовленное по специальным технологиям выплавки с добавлением оксидов металлов, равно как и кусочки различной формы, полученные из него путём колки или резки.

2. (1 балл) Рассмотрите предложенные фотографии и расположите данные объекты в порядке их изобретения.

		
1 2	2 1	3 3

3. (1 балл) При благоустройстве парка было решено посыпать несколько тропинок песком. Длины тропинок равны 5 м, 112 дм, 318 см и 225 см. Определите общую длину тропинок, которые решили посыпать песком. Ответ дайте в сантиметрах. 300 см,

4. (1 балл) Выберите из предложенных рисунков все те, на которых изображены изделия, выполненные в технике хохломской росписи.



а



б



в



г



д



е

5. (1 балл) По рецепту, чтобы приготовить 1 литр варенья из свежих персиков, нужно взять 1 кг персиков и 1 кг сахара. Даша решила сварить 5 литров варенья по данному рецепту.


Пользуясь данными таблицы, определите, какую наименьшую сумму нужно потратить на покупку ингредиентов для варенья. Ответ дайте в рублях.

Наименование продукта	Масса (г)	Цена за одну упаковку (руб.)
Персики в корзинке	450	74
Персики	500	120
Персик плоский	1000	180
Персики с жёлтой мякотью	1000	130
Сахар кусковой	250	30
Сахар-песок белый	1000	35
Сахар «экстра»	1000	50
Сахар светлый тростниковый	500	120
Сахар-песок	5000	205


Специальная часть

15
+
6. (1 балл) Расположите буквы в правильном порядке, разгадайте зашифрованное слово, получите название рукоделия: *алкеп. лмжа*


7. (1 балл) Какое изделие можно изготовить в технике рукоделия из предыдущего задания?



а



б



в

8-9.

8. (1 балл) Отгадайте загадку.

Не коток, а разглаживает, не паровоз, а пытит, трубы нет, а пар идёт.

- 18
+
- а) чайник
 - б) пароварка
 - в) утюг
 - г) увлажнитель воздуха

9. (1 балл) Для чего используется это приспособление?

- а) раскрой изделия
- б) стачивание деталей изделий
- в) проведение примерки
- г) влажно-тепловая обработка изделия

10. (1 балл) Отгадайте загадку о пищевом продукте.

«Ешь, да пей,
Да гостям налей,
И коту не пожалей!» *молоко*

Из предложенного списка выберите все блюда, для приготовления которых используется этот пищевой продукт.

- а) харчо
- б) салат мимоза
- 15 в) манная каша
- г) плов
- + д) какао
- е) молочный коктейль

11. (1 балл) Из предложенного списка выберите продукты растительного происхождения.

- а) мясо
- 15 б) дайкон
- в) яйцо
- + г) масло подсолнечное
- д) рыба
- е) картофель

12. (1 балл) Из какой страны происходит напиток, который пьёт девушка, изображённая на картине Константина Маковского?




- а) Италия
- б) Англия
- в) Китай
- г) Япония

13. (1 балл) Что из приведённого списка не является бутербродом?
Выберите все правильные ответы.

- а) паэлья
- б) канапе
- в) гамбургер
- г) карпаччо
- д) расстегай
- е) чизбургер

14. (1 балл) На рисунке представлен вариант сервировки завтрака. Определите названия предметов сервировки. Каждому номеру подберите соответствующий ему предмет сервировки.




Предметы сервировки

- 5 столовый нож
- 3 столовая вилка
- 6 столовая ложка
- 1 пирожковая тарелка
- 7 чайная пара
- 2 салфетка
- 8 стакан
- 4 тарелка

10


+

15. (1 балл) Рассмотрите рисунок. Вставьте пропущенное слово.
На рисунке изображён процесс производства В) в Китае.



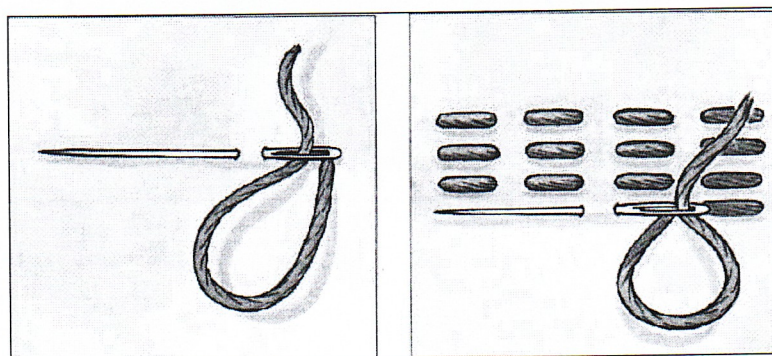
- 15
+
- а) ткани
 - б) чая
 - в) бумаги

16. (1 балл) Выберите все инструменты и приспособления, с помощью которых можно выполнить вышивку «Сова».



- а) нитки мулине
- б) ткань – канва
- в) булавка
- г) пяльца деревянные
- д) тесьма
- е) игла
- ж) портновский мел

17. (1 балл) Как называется такой стежок?



- а) крестообразный
- б) прямой
- в) косой
- г) петельный

18. (1 балл) Отгадайте загадку, получите название пищевого продукта

«Тем вкусней он будет, братцы,
Чем в нём больше круглых дыр.

Любит в масле покататься
Этот вкусный жёлтый сыр

19. (1 балл) К какой группе пищевых продуктов относится отгадка загадки из вопроса № 18?

15
+
Выберите один правильный ответ.

бобовые	крупы	молочные	кондитерские
А	Б	В	Г

20. (1 балл) В рецепт каких блюд входит пищевой продукт из вопроса № 18?

15
+
Выберите все правильные ответы.

хачапури	пицца	сырник	гуляш
А	Б	В	Г

Всего: 13 баллов